

5



小猴有 4 只，
小兔有 4 只。

哪队小动物多？



和 同样多。

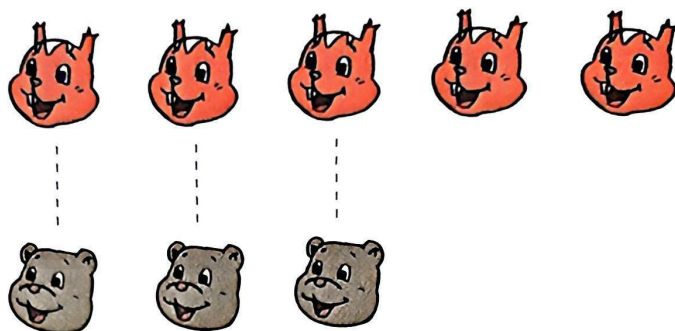


$4 = 4$ 读作：4 等于 4。

...

等号





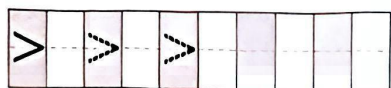
比 多。

$$5 > 3$$

⋮

大于号

读作：5 大于 3。



比 少。

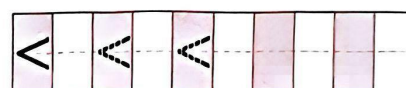


$$3 < 5$$

⋮

小于号

读作：3 小于 5。




想想做做

1. 摆一摆，填一填。



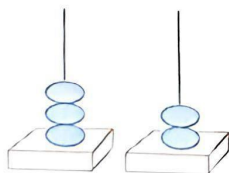
() 比 () 多



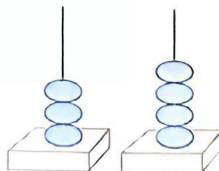
() 比 () 少



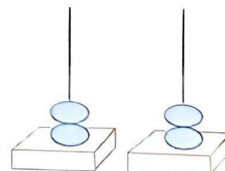
2.



$$3 \bigcirc 2$$



$$3 \bigcirc 4$$



$$2 \bigcirc 2$$

3. 在 \bigcirc 里填 “>” “<” 或 “=”。

$$5 \bigcirc 2$$

$$3 \bigcirc 3$$

$$2 \bigcirc 3$$

$$4 \bigcirc 3$$